

ШИФР И-7К4-1

Школьный этап всероссийской олимпиады школьников
по истории
(название предмета)

Работа ученика (цы) 7 класса МОАУ «Ветлянская СОШ»

Фамилия, имя, отчество ученика в родительном падеже

Кочаной Анны Максимовны

Учитель Андреева Мария Александровна

(Фамилия, имя, отчество полностью)

Сумма баллов - 74 - 1 место
Председатель жюри: Тришкова О.М.
Члены жюри: Тришкова В.П.
Кривоненко С.П.

Всероссийская олимпиада школьников по истории. Школьный этап
2024-2025 учебный год

7 класс

ШИФР И-7К-4-1

Максимальное количество баллов – 100

Задание 1. Выберите один вариант ответа (15 б.)

1. К восточным славянам относятся племена:

- 1) хазары, печенеги, половцы 2) поляне, древляне, дреговичи 15
3) торки, ливы, пруссы 4) мурома, ливы, мордва

2. С именем князя Ярослава Мудрого связано:

- 1) покорение Дунайской Болгарии 2) крещение Руси
3) принятие Русской Правды 4) объединение Киева и Новгород 15

3. Объезд князем и его дружины своих владений с осени до весны:

- 1) полюдье 2) повоз 3) обход 4) ополчение 15

4. Русь приняла крещение в:

- 1) 860 г. 2) 988 г. 3) 980 г. 4) 996 г. 15

5. Первый свод письменных законов Древней Руси назывался:

- 1) Русская Правда 2) Урок Ярославичам 3) Судебник 4) Соборное Уложение 15

6. Прозвище Невский князь Александр Ярославович получил за:

- 1) проведение переписи населения в Новгороде 2) поездку к хану Орды за ярлыком

- 3) победу над крестоносцами 4) разгром шведского отряда 15

7. Духовный лидер, от которого Дмитрий Иванович получил благословление накануне Куликовской битвы:

- 1) Сергей Радонежский 2) митрополит Алексий 15

- 3) митрополит Петр 4) патриарх Никон

8. Год принятия Судебника Ивана III:

- 1) 1380 г. 2) 1480 г. 3) 1382 г. 4) 1497 г. 15

9. Как называлось земельное владение, за которое несли военную службу?

- 1) обет; 2) феод; 3) оброк; 4) титул 15

10. Товарное хозяйство:

- 1) хозяйство, которое давалось за военную службу;
2) мастерская ремесленника, в которой можно купить его изделия;
3) хозяйство, в котором изделия производятся для продажи на рынке, обмениваются посредством денег; 15
4) хозяйство, в котором все необходимое производится для собственного потребления.

11. Как назывался орган сословного представительства во Франции?

- 1) Парламент 2) Генеральные штаты 3) Сейм 4) Кортес 15

12. В результате войны Алой и Белой розы в Англии образовалась династия:

- 1) Плантагенетов 2) Ланкастеров 3) Тюдоров 4) Йорков 15

13. Грамота о прощении грехов называлась:

- 1) интердикт 2) индульгенция 3) инквизиция 4) аутодафе 15

14. Изобретение печатного станка принадлежит:

- 1) Р. Бэкону 2) И. Гутенбергу 3) П. Абеляру 4) Авиценне 15

15. Как называется Священная книга мусульман?

- 1) Библия; 2) Коран; 3) веды; 4) хроники 15.

150

Задание 2. Определите по какому принципу образован ряд (12 б.)

2.1 Вандалы, вестготы, гунны, остготы; 05

2.2 Вятичи, древляне, дреговичи, поляне; 05

2.3 Балтийское море, Нева, Ладожское море, Волхов, Днепр, Чёрное море; 05

2.4 Олег Вещий, Дмитрий Донской, Иван Грозный. Рюриковичи 35.

Задание 3. Выберите лишний термин в списке. Объясните свой выбор (12 б.)

3.1. Курбские; Романовы; Рюриковичи. 25

3.2. Граф; рыцарь; барон; крестьянин. 25

3.3. Монархия; республика; федерация 25

3.4. Дания; Норвегия; Византия; Швеция. 25

85

Задание 4. Соотнесите события, даты, имена (18 б.)

- | | | | | |
|----|-------------------------------------|--------------|------------|----------------------|
| 35 | 1) Невская битва | ДБ | A. 800 г. | а) Дмитрий Донской |
| 35 | 2) Куликовская битва | 2a | B. 1240 г. | б) Ромул Август |
| 35 | 3) Верденский договор | Aa | B. 1223 г. | в) Чингисхан |
| 35 | 4) Падение Западной Римской империи | ES | Г. 1242 г. | г) Александр Невский |
| 35 | 5) Ледовое побоище | Г2 | Д. 1380 г. | д) Карл II Лысый |
| 35 | 6) Битва на р. Калка | BB E. 476 г. | E. 476 г. | |



485



Задание 5. Заполните пропуски в тексте (24 б.)

В 1359 году великим князем в возрасте 9-ти лет стал 1 ^{Донской}. По завещанию отца наставником и воспитателем князя стал митрополит 2 ^{Димитрий}. Правительство князя осуществляло ряд 3 ^{реформ}, направленных на централизацию государственного управления и военного дела. Князь вел осторожную политику по отношению к 4 ^{орде}, стремясь втереться в доверие к ханам, он тем не менее поддерживал восстания против них, отказался от уплаты дани. При нем для укрепления Москвы были построены 5 ^{тепловые} стены Московского кремля. В 6 ¹²⁸⁰ году произошло одно из важнейших событий отечественной истории, войска под предводительством темника Мамай встретились на 7 ^{Куликовом поле} с войсками Дмитрия Донского. Эта битва началась с поединка Пересвета и 8. Причинами победы в этой битве был подъем патриотизма, вера в победу и объединение князей, благодаря благославлению 9 ⁰⁵. Одним из негативных последствий победы стало разорение и поджог Москвы в 1383 году ханом 10 ⁰⁵. Именно при Дмитрии Донском начинают формироваться предпосылки освобождения от 11 ⁰⁵ зависимости. 19 мая 1389 года князь скончался в Москве. Похоронен в Архангельском соборе 12 ⁰⁵.

145

Задание 6. Установите соответствие между событиями (процессами) и иллюстрациями: к каждому событию (процессу) подберите по одной иллюстрации.

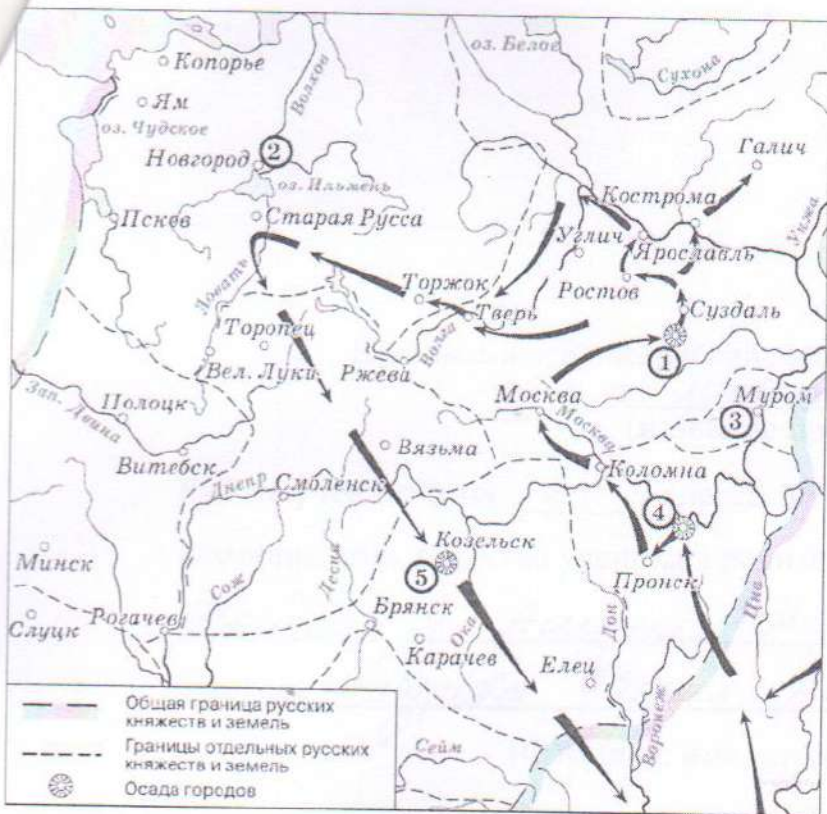
- | | | | | |
|----|---|----|---|---|
| 1) |  | 2) |  | A) формирование территории Древнерусского государства; |
| | | | | Б) развитие законодательства в Древнерусском государстве; |
| | | | | В) установление зависимости русских земель и княжеств от Орды; |
| | | | | Г) развитие науки и техники в Западной и Центральной Европе в XV в. |

- | | | | |
|----|---|----|---|
| 3) |  | 4) |  |
|----|---|----|---|

А	Б	В	Г
4	1	3	2

45

Задание 7. Работа с картой (15 б.)



1. Какому событию посвящена карта? (1 б.) *Монгольское нашествие* 15
2. К какому веку относятся события, изображенные на карте? (1 б.) *XIII в.* 15
3. Назовите имя полководца, осуществившего поход, обозначенный на схеме стрелками. (2 б.) *Батый* 25
4. Назовите княжество, в пределы которого вторглись монголы в начале похода на Русь. (2 б.) *Рязань* 25
5. Напишите название города, обозначенного на схеме цифрой «1». (2 б.) *Владимир* 25
6. Под какой цифрой находится город, который монголы прозвали «злым городом», назовите его. (2 б.) *5 - Козельск* 25
7. Почему монголы его так прозвали? (3 б.) *Из-за немилости князя* 30
8. Назовите цифру, которой обозначена столица земли, где не было монгольского вторжения. (2 б.) *2, 25*

(15)

Итого: 7 баллов из 100 баллов, - 7 место.