

ШИФР Т-6-к4-5

Школьный этап всероссийской олимпиады школьников
по технологии
(название предмета)

Работа ученика (цы) 6 класса МОАУ «Ветлянская СОШ»

Фамилия, имя, отчество ученика в родительном падеже

Кривошеиной Ульяны

Учитель Арабаева Т.К.

(Фамилия, имя, отчество полностью)

Сумма баллов - 905
Председатель жюри: Эльза
Члены жюри: Арабаева
Соня

Кривошигина
Ирина

Уважаемый участник!

ПЕРЕД ВЫПОЛНЕНИЕМ ЗАДАНИЯ ВНИМАТЕЛЬНО ПРОЧТИТЕ ИНСТРУКЦИЮ

На выполнение задания отводится 90 мин. Задание состоит из 15 тестовых вопросов и творческого задания, в которых предложены тесты с одним или несколькими правильными ответами. Также предложены теоретические вопросы с 16-18, на которые следует дать исчерпывающий ответ. Задача участника внимательно ознакомиться с предложенными заданиями и выполнить их в строгом соответствии с формулировкой.

Инструкция по выполнению заданий

1. До начала выполнения тестового задания внимательно прочитайте полностью задание.
2. Выполняйте задания в предложенной последовательности.
3. Не задерживайтесь слишком долго, если не сможете выполнить определенное задание, переходите к следующему, лучше вернуться к нему в конце, если останется время.
4. В тестовом задании с выбором, правильных ответов может быть один или несколько. Знак «+» или «V» поставьте напротив правильного ответа.
5. Тестовое задание считается выполненным, если в нем отмечены или записаны все правильные ответы и не отмечено ни одного неправильного ответа.
6. За творческое задание № 16-18 вы можете получить 30 баллов.
7. По данному комплекту можно получить максимальное количество – 90 балла.
8. Время выполнения тестовых заданий 90 мин.

Желаем удачи!

Олимпиадные задания по технологии для 6-го класса (Культура дома и декоративно-прикладное творчество)

Максимальное количество баллов при верно выполненных заданиях 90 баллов

1. Укажите последовательность выполнения творческого проекта (пронумеровать цифрами в квадратиках) 5 баллов

- а. расчет себестоимости
- б. выявление проблемы потребителя
- в. подготовка инструментов и материалов
- г. изготовление изделия;
- д. выдвижение идей и вариантов

+ 58

2. Установите соответствие. Из каких зерновых культур получают крупы: 5 баллов

- | | |
|--|----------------|
| а) <input type="text" value="3"/> манку | 1. из гречихи; |
| б) <input type="text" value="5"/> «Геркулес» | 2. из ячменя; |
| в) <input type="text" value="4"/> пшено | 3. из пшеницы; |

- г) 1 гречку 4. из проса; + 5 8
д) 2 перловку 5. из овса

3. Какую роль для организма играют минеральные вещества: 4 балла

1. Б Кальций А. Участвует в работе щитовидной железы
2. Г Железо Б. Участвует в построении костной ткани + 4 8
3. А Йод В. Регулирует водный обмен
4. В Натрий Г. Нормализует состав крови

Знаком + отметьте правильный ответ

4. перед началом обеда салфетку на колени кладут 1 балл

- а) полностью развёрнутой
б) сложенной по диагонали
в) сложенной вдвое с уравненными краями;
г) + сложенной вдвое с нижней частью короче верхней + 1 5
д) сложенной вдвое с верхней частью длиннее нижней

5. Укажите признаки недоброкачественной рыбы 2 балла

- а) + глаза выпуклые, прозрачные
б) мякоть рыбы отстает от костей
в) + жабры серого цвета + 2 5
г) жаберные крышки плотно прижаты к голове

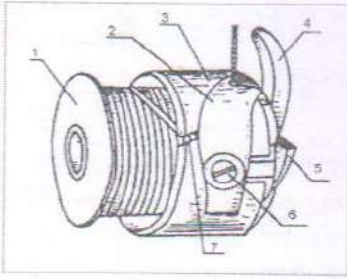
6. К гигиеническим свойствам тканей относятся 1 балл

- а. ✓ прочность
б. + воздухопроницаемость + 1 5
в. износостойкость
г. осыпаемость

7. Укажите последовательность процесса получения ткани (пронумеровать цифрами в квадратиках) 4 балла

- а. 5 отделка, окрашивание
б. 2 прядение
в. 1 первичная обработка волокна + 4 8
г. 3 ткачество
д. 4 отбеливание сурового полотна

Напишите названия деталей шпульного колпачка, отмеченные цифрами на рисунке. 7 баллов



- 1. Шпулька
- 2. пластичная пружина
- 3. корпус
- 4. установочный палец
- 5. защелка
- 6. Винт
- 7. прорезь

+ 78

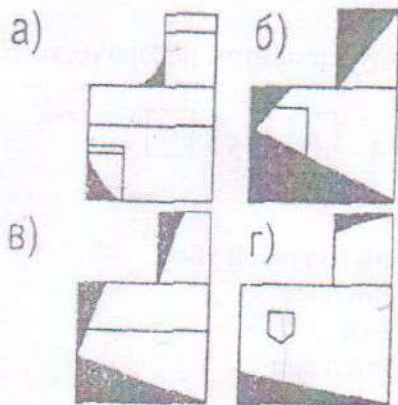
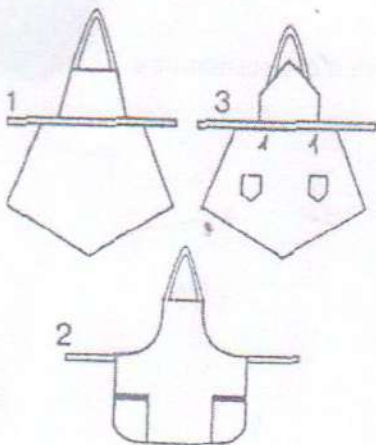
9. Для построения чертежа фартука мерку Сб снимают. 1 балл

- 1. для определения длины пояса
- 2. для определения длины изделия
- 3. для определения ширины изделия
- 4. для определения ширины карманов

+ 18

10. Установите, какой модели фартука соответствует выполненное моделирование. Впишите соответствующие буквы. 3 балла


- 1.- В 2.- а ; 3.- 2



+ 38

11. Какое ткацкое переплетение представлено на схеме? 1 балл

А) Атласное
 Б) Саржевое
 В) Плотняное
 Г) Сатиновое



+ 15

12. Величина припусков на швы при раскрое деталей зависит от: 2 балла

- А. назначения изделия;
 Б. осыпаемости ткани;
 В. величины печатаного рисунка;
 Г. Размера ткани;
 Д. Вида шва;
- + 25

13. Соотнесите виды ткани и изображения, на которых они показаны. 4 балла

А	Б	В	Г
			
1. Суровая ткань	2. Отбеленная ткань	3. Гладкокрашенная ткань	4. Набивная ткань

А- 3 ; Б- 4 ; В- 1 ; Г- 2 ;

+ 45

14. Установите соответствие между элементом исторического костюма и его названием. 5 баллов

5 баллов

1.- Г ; 2.- В ; 3.- Б ; 4.- А ; 5.- Д ;

- | | |
|-------------|--------------------------|
| 1. Понёва | а) фартук |
| 2. Кушак | б) женский головной убор |
| 3. Кокошник | в) широкий пояс |
| 4. Макинтош | г) вид юбки |
| 5. Завеска | д) мужской плащ |
- + 55

15. Решите кроссворд. 5 баллов

Впишите в «ступеньки» названия хлопчатобумажных тканей

Б	я	з	ь		
Б	А	й	к	А	

	А	Т	И	С	Т	
Б	А	Р	Х	А	Т	
Б	Р	Е	З	Е	Н	Т

+ 55

1. Эту ткань применяют для пошива постельного белья.
2. Из этой ткани шьют детские ползунки
3. Эта тонкая, прозрачная ткань служит материалом для носовых платков, дорогого белья.
4. Из этой ткани делают красивые вечерние платья.
5. Техническая ткань для пошива туристических палаток, военной формы

Практические задания.

16. Составьте полноценное меню на один день с учетом требований рационального питания. 15 баллов

1. Завтрак - Вафлы, чай
2. Обед - Суп с тефтелями, плов, хлеб, компот
3. Полдник - Бутерброды с сыром
4. Ужин - Картофельная запеканка, кисель

+ 155

17. Перечисли примеры декоративного убранства комнат, которые можно сделать своими руками. Нарисуй эскиз одного из таких изделий. Напиши в какой технике оно выполняется. 10 баллов

вышивка, картины, пэчворк, вазы, подушки.

+ 10



18. Чем славится наш родной край. Напиши и нарисуй. 15 баллов

Наш край славится арбузными полями, солью, клеем, оренбургским пуховым платком

+ 155



итого
905